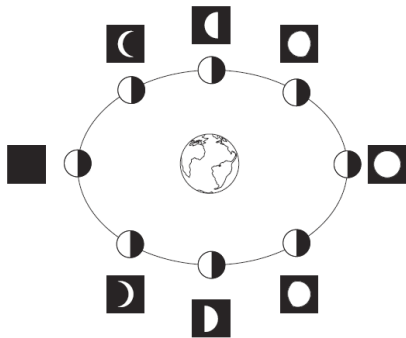















TEMA	BUMI DAN ANGKASA								
UNIT	9 Fasa Bulan dan Buruj								
TAJUK	Fasa Bulan								
STANDARD KANDUNGAN	9.1 Fasa Bulan								
STANDARD PEMBELAJARAN	<p>9.1.3 Menggunakan perhubungan ruang dan masa untuk menggambarkan fasa Bulan dalam satu edaran lengkap mengikut takwim Qamari</p> <p>9.1.4 Menjelaskan pemerhatian tentang fasa bulan melalui lakaran, TMK, penulisan atau lisan secara kreatif</p>								
AKTIVITI	<p>1 Murid mengetahui bahawa fasa-fasa Bulan disebabkan oleh peredaran Bulan mengelilingi Bumi.</p>  <p>2 Murid mempelajari tentang fasa-fasa Bulan berpandukan tayangan video.</p>  <p>https://www.youtube.com/watch?v=FolhAOr5wfm</p> <p>ATAU</p>  <p>https://www.youtube.com/watch?v=zLHwj7e0xQ</p> <p>3 Aktiviti kumpulan: Jom lakar! Murid diberi kad yang mengandungi teka teki. Murid melakar fasa Bulan berdasarkan kad yang diberi.</p> <table border="1" data-bbox="702 1433 1268 1915"> <tr> <td>Sebahagian kecil permukaan Bulan yang disinari menghadap Bumi.</td> <td></td> </tr> <tr> <td>Keseluruhan bahagian permukaan Bulan yang disinari menghadap Bumi.</td> <td></td> </tr> <tr> <td>Bahagian permukaan Bulan yang gelap menghadap Bumi.</td> <td></td> </tr> <tr> <td>Separuh bahagian permukaan Bulan yang terang menghadap Bumi.</td> <td></td> </tr> </table> <p>4 Setiap kumpulan akan mempamerkan hasil kerja dan menjalankan <i>gallery walk</i>. Murid berbincang dan membetulkan hasil kerja masing-masing.</p>	Sebahagian kecil permukaan Bulan yang disinari menghadap Bumi.		Keseluruhan bahagian permukaan Bulan yang disinari menghadap Bumi.		Bahagian permukaan Bulan yang gelap menghadap Bumi.		Separuh bahagian permukaan Bulan yang terang menghadap Bumi.	
Sebahagian kecil permukaan Bulan yang disinari menghadap Bumi.									
Keseluruhan bahagian permukaan Bulan yang disinari menghadap Bumi.									
Bahagian permukaan Bulan yang gelap menghadap Bumi.									
Separuh bahagian permukaan Bulan yang terang menghadap Bumi.	