

UJIAN BULANAN SESI AKADEMIK 2 (UBSA 2)

MARKAH		
BAHAGIAN A	BAHAGIAN B	BAHAGIAN C
20	20	10



JSU UBSA 2

Bahagian A [20 markah]

1 Berikut merupakan ahli-ahli Suruhanjaya Cobbold **kecuali**

SP 10.1.2

- A Tun Muhammad Ghazali Shafie
- B Tan Sri Wong Pow Nee
- C Lord Cameron Cobbold
- D Tunku Abdul Rahman

Konstruk: Mengingat Aras: R

2 Perjanjian Malaysia ditandatangani di mana?

SP 10.1.2

- A Singapura
- B London
- C Kuala Lumpur
- D Pulau Pinang

Konstruk: Mengingat Aras: R

3 Keputusan laporan Suruhanjaya Cobbold terhadap pembentukan Malaysia ialah _____.

SP K10.1.5

- A majoriti menerima pembentukan Malaysia
- B majoriti menolak pembentukan Malaysia
- C tiada keputusan muktamad
- D memorandum dibatalkan

Konstruk: Menganalisis Aras: S

4 Negeri manakah yang dikaitkan dengan gambar di bawah?

SP 6.2.1



- A Melaka
- B Pulau Pinang
- C Kedah
- D Perlis

Konstruk: Mengingat Aras: R


5 Ibu Negeri bagi Sarawak ialah _____.

SP 10.2.3

- A Kota Bharu
- B Kuching
- C Ipoh
- D Sarikei

Konstruk: Mengingat Aras: R

Soalan 6 berdasarkan gambar di bawah.



6 Gambar di atas menunjukkan tentang salah satu prinsip Rukun Negara.

SP 10.3.2

Apakah prinsip tersebut?

- A Keluruhan perlembagaan
- B Kepercayaan kepada Tuhan
- C Kesetiaan kepada raja dan negara
- D Kesopanan dan kesusilaan

Konstruk: Mengingat Aras: R

7 Mengapakah amalan beragama penting dalam kehidupan masyarakat berbilang kaum seperti yang dinyatakan dalam Rukun Negara?

SP K10.3.5

- A Menyatupadukan masyarakat di Malaysia yang berbilang kaum
- B Menjamin kestabilan politik negara
- C Memilih pemimpin yang adil dan jujur
- D Memilih rakan dari negara lain untuk bersama mentadbir negeri

Konstruk: Menganalisis Aras: T

Soalan 8 berdasarkan maklumat berikut.

- Terkenal dalam kalangan kaum Kadazandusun.
- Diperbuat daripada buluh poring yang berbuku dikedua-dua hujungnya.

8 Apakah nama alat muzik yang merujuk maklumat di atas?

SP 11.1.2

- A Tongkungan
- B Sampoton
- C Tontog
- D Kulintang

Konstruk: Mengingat Aras: R

9 Apakah nilai yang boleh kita dapati berdasarkan kisah “Si Luncai dengan Labu-labunya”.

SP 11.1.5

- A Kehebatan seorang raja
- B Ketamakan raja menguasai harta
- C Kelicikan Si Luncai melepaskan diri
- D Bercita-cita tinggi mengahwini puteri raja

Konstruk: Menganalisis Aras: T



10 Apakah agama yang berkaitan dengan rumah ibadat berikut?

SP 11.2.1

- A Hindu
- B Buddha
- C Kristian
- D Sikh

Konstruk: Mengingat Aras: R

11 Berikut adalah bukan kebaikan mengamalkan amalan agama dalam kehidupan **kecuali**

SPK11.2.7

- A mengawal diri daripada melakukan perkara negatif
- B berpeluang menjadi tokoh agama
- C dapat mengingati peristiwa penting keagamaan
- D mewujudkan peluang ekonomi yang lebih baik dalam keagamaan

Konstruk: Menganalisis Aras: T

12 Kedudukan agama Islam sebagai agama rasmi termaktub dalam _____.

SP 11.2.2

- A buku peraturan
- B kitab keagamaan
- C Perlembagaan Persekutuan
- D ikrar Rukun Negara

Konstruk: Mengingat Aras: R

13 Sambutan perayaan-perayaan di Malaysia boleh dikaitkan dengan unsur kebudayaan dan _____.

SP 11.3.1

- A keagamaan
- B kunjung-mengunjungi
- C kejayaan
- D makanan

Konstruk: Mengingat Aras: R

14 Perayaan di Malaysia disambut pada setiap tahun adalah kerana

SP 11.3.2

- I lebih duit
 - II unsur pemujaan
 - III meraikan tahun baharu
 - IV mengingati tokoh agama
- A I dan II
 - B II dan III
 - C III dan IV
 - D I dan IV

Konstruk: Memahami Aras: T

Soalan 15 berdasarkan gambar di bawah.



15 Siapakah tokoh di atas?

SP 12.1.4

- A Tun Hussein bin Onn
- B Tun Abdul Razak b.Hussein
- C Tun Dr. Mahathir bin Mohamad
- D Tunku Abdul Rahman Putra Al-Haj

Konstruk: Mengingat Aras: R

16 Bidang kuasa utama Perdana Menteri Malaysia ialah _____.

SP 7.2.3

- A pentadbiran negara
- B urusan istana
- C perundangan dan adat istiadat Melayu
- D keagamaan

Konstruk: Mengingat Aras: R

17 Perdana Menteri mengukuhkan hubungan dengan negara lain adalah kerana _____.

SP K7.2.6

- A menjalinkan hubungan diplomatik
- B menguasai hubungan diplomatik
- C memudahkan urusan ke luar negara
- D menjamin kestabilan mata wang negara

Konstruk: Mengingat Aras: R

18 Industri hiliran bermaksud _____.

SP 12.2.1

- A kegiatan yang berkembang daripada kegiatan ekonomi utama negara
- B usaha sama antara dua negara
- C pendapatan utama negara
- D menyumbang kewangan negara

Konstruk: Mengingat Aras: R

Soalan 19 berdasarkan maklumat berikut.

- Digelar Supermoh
- Pernah jaringkan 89 gol

19 Siapakah legenda bola sepak yang dimaksudkan di atas?

SP 12.3.1

- A Safee Sali
- B Ariff Aiman
- C Mokhtar Dahari
- D M. Rejmani

Konstruk: Mengingat Aras: R

Soalan 20 berdasarkan rajah tersebut.



20 Gambar di atas adalah lambang bagi sebuah pertubuhan antarabangsa.

SP 12.4.4

Apakah perhubungan antarabangsa tersebut?

- A Pertubuhan Bangsa-Bangsa Bersatu (PBB)
- B Pertubuhan Kerjasama Islam (OIC)
- C Persatuan Negara-negara Asia Tenggara (ASEAN)
- D Association of Southeast Asia (ASA)

Konstruk: Mengingat Aras: S


Bahagian B
[20 markah]
Jawab semua soalan

I Garis gambar bendera di bawah dengan jawapan yang betul.

SP 7.2.1



Kedah




Perak



Pahang



Sabah



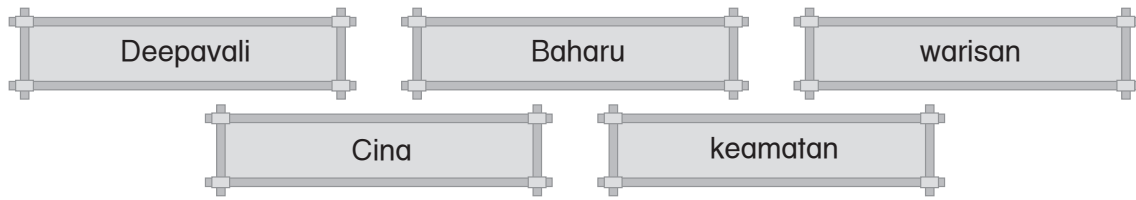
Johor

[5 markah]

Konstruk: Mengingat Aras: S

2 Lengkapkan pernyataan berikut dengan jawapan yang betul.

SP 11.3.1



- (a) Makan besar biasanya diadakan oleh masyarakat _____.
- (b) Pesta Cahaya juga dipanggil perayaan _____ yang disambut oleh masyarakat India.
- (c) Perayaan utama bagi masyarakat Cina di Malaysia ialah Tahun _____ Cina.
- (d) Program masyarakat di Malaysia perlu dihargai dan dikekalkan sebagai _____ kepada generasi akan datang.
- (e) Masyarakat Kadazandusun menyambut pesta _____ sebagai tanda kesyukuran.

[5 markah]

Konstruk: Menilai

Aras: T

3 Tandakan (✓) pada pernyataan yang betul dan (X) pada pernyataan yang salah tentang atlet negara.

SP 12.3.5

- (a) Abdul Latif Romly berjaya meraih pingat emas pada temasya Paralimpik Tokyo 2.
- (b) Nicol Ann David merupakan atlet skuasy.
- (c) Datuk Lee Chong Wei merupakan lagenda badminton negara.
- (d) Muhammad Ziyad Zulkifli merupakan jaguh lontar peluru paralimpik negara.
- (e) Malaysia memenangi Piala Thomas pada tahun 1992.

[5 markah]

Konstruk: Mengingat

Aras: S

4 Isi tempat kosong dengan jawapan yang betul tentang kegiatan ekonomi tradisional.

SP 12.1



- (a) Dilakukan secara _____.
- (b) Menggunakan peralatan mudah seperti _____.
- (c) Memerlukan _____ yang kecil atau sedikit.
- (d) Sumber _____ yang kurang iaitu terdiri daripada ahli keluarga.
- (e) Aktiviti pertanian bersifat _____.

[5 markah]

Konstruk: Memahami Aras: S

2 Jawab soalan-soalan dibawah.

(a) Berikan **tiga** kepentingan menjalinkan hubungan baik dengan negara luar.

SP 12.4.3

[3 markah]

Konstruk: Memahami Aras: T

(b) Senaraikan **dua** pertubuhan dunia yang kamu ketahui.

SP K12.4.7

[2 markah]

Konstruk: Mengingat Aras: S